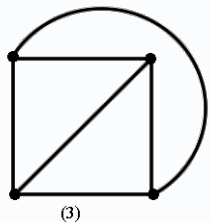
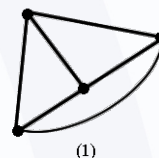
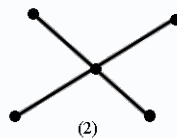


مثالها

مثال 8) هریک از گراف های نشان داده شده در شکل زیر را بصورت گراف $k_4, k_{2,2}, k_{1,4}, k_{2,3}$ مشخص کنید .



مثال 9) هریک از گراف های نشان داده شده در شکل زیر را به صورت گراف $k_4, k_{2,2}, k_{1,4}, k_{2,3}$ مشخص کنید .



مثال 10) مکمل گراف $k_{n,m}$ ، برابر است با

1) گرافی با دو مؤلفه اتصال k_n, k_m

2) گرافی با دو مؤلفه اتصال زیر گرافی k_n, k_m

3) گرافی با دو مؤلفه اتصال k_{n-1}, k_{m-1}

4) گرافی با دو مؤلفه اتصال k_{n-1}, k_{m-1} و زیر گرافهای آنها