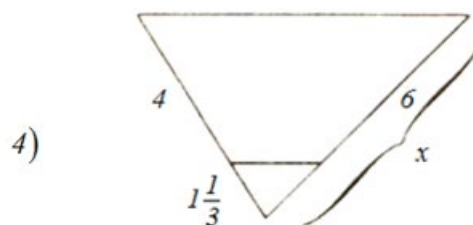
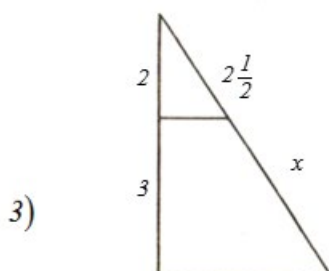
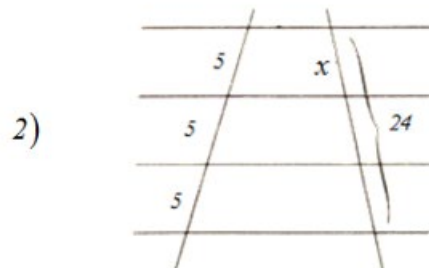
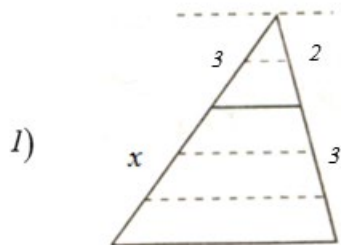


مثالها

مثال) در شکلهای زیر خطوط افقی موازیند ، مقدار x را پیدا کنید .



مثال 5) یک پاره خط رسم کنید و بدون استفاده از خط کش آنرا به پنج قسمت مساوی تقسیم کنید .

مثال 6) یک پاره خط رسم کنید و آن را به دو قسمت چنان تقسیم کنید که یک قسمت سه برابر قسمت دیگر باشد .

مثال 7) نشان دهید پاره خطی که از وسط یک ساق از دوزنقه به موازات دو قاعده رسم می شود از وسط ساق دیگر می گذرد .

مثال 8) در شکل زیر ثابت کنید $\frac{AB}{BC} = \frac{DE}{EF}$

